


Užduotis „Greičiau ir teisingiau“

1. Jonukas rankose laikė dviejų galų lazda. Tada berniukas perlaužė lazda 2 kartus. Kiek dabar bus galų?
2. Kiek gausime atlikę veiksmus?


$1 + 1 + 1 + 1 + 1$
 $1 + 1 + 1 + 1 + 1$
 $1 + 1 \times 0 + 1 = ?$
3. Jie būna ugnies, vandens, atominiai, smėlio. Kas jie?
4. Kasdien Žemė pasunkėja 400 tonų. Iš kur atsiranda ši masė?
5. Parašykite valgomosios druskos formulę.
6. Kaip žymimi cheminiai elementai aukas ir sidabras?
7. Kas yra eritrocitas?
8. Iš kiek skyrių sudaryta žmogaus širdis?

ATSAKYMŲ LAPAS

Užduotis „Greičiau ir teisingiau“

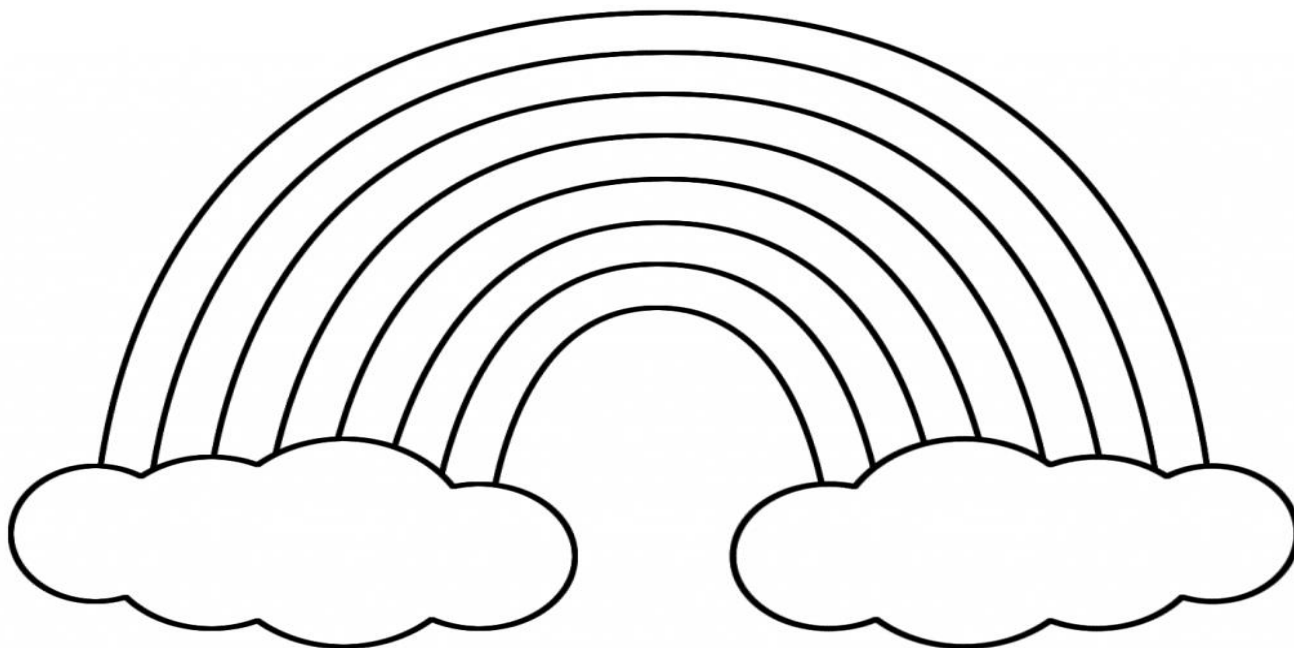
Iš viso 8 taškai. Teisingas atsakymas vertinamas 1 tašku.

Klausimo numeris	Klausimas	Atsakymas
1.	Jonukas rankose laikė dviejų galų lazda. Tada berniukas perlaužė lazda 2 kartus. Kiek dabar bus galų?	6
2.	Kiek gausime atlikę veiksmus? 	2 (skaičiuojame tik paskutinę eilutę. Po pirmos ir antros eilutės nėra jokio aritmetinio ženklo)
3.	Jie būna ugnies, vandens, atominiai, smėlio. Kas jie?	Laikrodžiai
4.	Kasdien Žemė pasunkėja 400 tonų. Iš kur atsiranda ši masė?	Kosminės dulkės, šiukšlės
5.	Parašykite valgomosios druskos formulę.	NaCl
6.	Kaip žymimi cheminiai elementai auksas ir sidabras?	Auksas –Au Sidabras – Ag
7.	Kas yra eritrocitas?	Raudonoji kraujo ląstelė
8.	Iš kiek skyrių sudaryta žmogaus širdis?	Iš 4 skyrių

Užduotis „Vaivorykštė“

Vaivorykštė yra optinis ir meteorologinis reiškinys, kuomet Saulei apšvietus atmosferoje esančius vandens lašelius, danguje atsiranda ištisinė spalvų spektro juosta.

Nuspalvinkite vaivorykštę.




..... **KOMANDA**

ATSAKYMŲ LAPAS

Užduotis „Vaivorykštė“

Iš viso 7 taškai. Teisingai nuspalvinta kiekviena spalva vertinama 1 tašku.



Užduotis „Tiesa ar melas?“

Į mobilųjį įrenginį parsisiųskite QR kodo skaitymo programėlę.

Siūloma parsisiųsti nemokamą QR Code Reader programėlę. Mobilųjų aplikacijų Google Play parduotuvėje suveskite QR Code Reader.

Yra 10 teiginių paslėptų po QR kodais. Su telefone turima programėle turite nusiskaityti duotą kodą, kad pamatytumėte teiginį. Į teiginį turite atsakyti tiesa ar melas.

1.



6.



2.



7.



3.



8.



4.



9.



5.



10.



ATSAKYMŲ LAPAS

Užduotis „Tiesa ar melas?“

Teisingas klausimo atsakymas vertinamas 1 tašku.

Klausimo numeris	Tiesa	Melas
1.		
2.		
3.		
4.		
5.		
6.		
7.		
8.		
9.		
10.		
Iš viso taškų		

..... **KOMANDA**

ATSAKYMŲ LAPAS

Užduotis „Tiesa ar melas?“

Teisingas klausimo atsakymas vertinamas 1 tašku.

Klausimas	Tiesa	Melas
1. Gyvatė neturi stuburo. (Gyvatė yra stuburinis gyvūnas)		+
2. Šaldomas vanduo plečiasi.	+	
3. Ore, kuriuo žmogus kvėpuoja, yra 65 % azoto. (Ore, kuriuo žmogus kvėpuoja yra 78 % azoto)		+
4. Tiek žiemos, tiek vasaros Olimpinės žaidynės vyksta kas ketverius metus, tačiau su dviejų metų skirtumu.	+	
5. Garsas Mėnulyje sklinda greičiau nei Žemėje (Ten visai garsas nesklinda).		+
6. Pitagoro teorema teigia, jog stačiojo trikampio statinių kvadratų suma yra lygi įžambinės kvadratui.	+	
7. Banginis yra žinduolis. (Tai didžiausias vandens žinduolis)	+	
8. Gėlas vanduo Žemėje sudaro 3% viso vandens.	+	
9. Kubas turi 12 viršūnių. (Kubas turi 8 viršūnes ir 12 briaunų)		+
10. Dainius Adomaitis yra Kauno „Žalgirio“ vyriausiasis treneris. (Šarūnas Jasikevičius yra Kauno „Žalgirio“ vyriausiasis treneris).		+

Užduotis „Sudėkite kvadrata“

Kvadratas yra sukarpomas į 7 dalis.

Užduotis. Reikia kuo greičiau iš 7 detalių sudėlioti kvadratą.

Iš viso 4 taškai. Visi taškai skiriami, jei sudėtas visas kvadratas, kitu atveju taškai neskiriami.

